

KATEGORIJA A in F

IME EKIP: \_\_\_\_\_

Vsak pravilen odgovor je vreden 5 točk. Če o odgovoru niste prepričani, premislite, ali želite odgovoriti, saj nepravilen odgovor prinaša -5 točk, neodgovorjeno vprašanje pa 0 točk.

1. Na planinskih poteh vse pogosteje srečujemo običajno markacijo, ki jo sestavljata svetlo moder krog in bela črta s piko.

**Kaj označuje?**

- a) Pot kurirjev in vezistov.
- b) Planinsko pot vzdolž meje Evropske unije.
- c) Pot, ki je namenjena tudi turnim kolesarjem.
- d) Pot na meji med Avstrijo in Slovenijo.



TOČKE: -5 0 +5

2. Otroci za hojo v gore potrebujejo spodbudo in motivacijo. Enega od načinov, kako to uresničiti predstavlja tudi dnevnik oz. program Mladinske komisije PZS, ki ga predstavlja logotip na sliki.

**Kateremu programu MK PZS pripada logotip na sliki?**

- a) Mladi planinec
- b) Ciciban planinec
- c) Gremo skupaj v gore varno
- d) Zlati sonček



TOČKE: -5 0 +5

3. Malica je sestaven del planinske rekreacije, zato je pomembno, da jo znamo izbrati.

**Kakšna priporočila veljajo glede zauživanja energijskih pijač na planinskih pohodih?**

- a) Energijske pijače so dobrodošle, če jih uživamo tik pod vrhom, ko potrebujemo še zadnji sveženj energije. Razumemo jih kot neke vrste prehransko dopolnilo.
- b) Pločevinka energijske pijače naj bo vedno prisotna v nahrbtniku, saj gre za sodoben nadomestek tega, čemur smo včasih rekli "železna rezerva".
- c) Energijske pijače ne sodijo v gore! Njihov učinek je kratkotrajen, po njem pa je oseba, ki jo je zaužila, še bolj izčrpana kot je bila pred izpitjem.
- d) Energijske pijače ne sodijo v gore, saj praviloma vsebujejo alkohol, ki zmanjša prištevnost.

TOČKE: -5 0 +5

4. Kadar gremo na turo, smo zelo daleč od zdravstvenega doma. Zato je znanje prve pomoči zelo pomembno. Še bolj pa je pomembno, da v primeru nesreče na pomoč pokličemo reševalce.

**Na črto zapišite telefonsko številko, na katero pokličemo, če se nam v gorah pripeti nesreča.**

\_\_\_\_\_

TOČKE: -5 0 +5

5. Mobilni telefoni so tudi v gorah postali nepogrešljivi. Z njim lahko fotografiramo in slike delimo s prijatelji na družabnih omrežjih, še pomembnejši pa so pri zagotavljanju naše varnosti.

**Katera trditev opisuje pravilno rabo telefona na planinskem izletu?**

- a) Vseskozi imamo vključen prenos podatkov, da smo obveščeni o stanju poti.
- b) Izklopimo vse nepotrebne funkcije ali mobilni telefon celo ugasnemo, da varčujemo z baterijo.
- c) Snemamo videoposnetek celotne ture, saj nam to lahko reši življenje.
- d) Pred turo namestimo kakšno zabavno aplikacijo, da nam med hojo ni dolgčas.

TOČKE: -5 0 +5

KATEGORIJA A in F

IME EKIBE: \_\_\_\_\_

6. V slovenskih gorah lahko najdemo več vrst gorskih koz.

**Katera žival je na sliki?**

- a) Gams
- b) Kozorog
- c) Zlatorog
- d) Muflon



TOČKE: -5 0 +5

7. Velenje z okolico ponuja zelo zanimive planinske izlete in sprehode. Njegova najvišja točka se nahaja na 1108 metrov nad morjem.

**Kako se imenuje najvišji vrh velenjske občine (na sliki)?**

- a) Smrekovec
- b) Uršlja gora
- c) Ramšakov vrh
- d) Špik



TOČKE: -5 0 +5

8. Kupili ste si planinsko karto, ki je podana v merilu 1:25.000.

**Pot od parkirišča do planinske kočje na njej meri 6 centimetrov. Koliko je to v naravi?**

- a) 150 metrov
- b) 1500 metrov
- c) 15 kilometrov
- d) Malo več kot 4 kilometre

TOČKE: -5 0 +5

9. Luka in Miha sta se odpravila na zimski izlet na Smrekovec. Ker sta startala dovolj zgodaj, sta ob 12h že uživala v sončnih žarkih na vrhu. Ugotovite, iz katere smeri so prihajali.

**Na kateri strani neba se pozimi sonce nahaja ob 12. uri?**


- a) Zahod
- b) Vzhod
- c) Jug
- d) Sever

TOČKE: -5 0 +5

10. Na sliki je najuspešnejša športnica Mestne občine Velenje.

**V katerem športu tekmuje?**

- a) Alpinizem
- b) Gorsko kolesarstvo
- c) Športno plezanje
- d) Alpsko smučanje



TOČKE: -5 0 +5

KATEGORIJA B in G

IME EKIP: \_\_\_\_\_

Vsak pravilen odgovor je vreden 5 točk. Če o odgovoru niste prepričani, premislite, ali želite odgovoriti, saj nepravilen odgovor prinaša -5 točk, neodgovorjeno vprašanje pa 0 točk.

1. Na planinskih poteh vse pogosteje srečujemo markacijo na sliki.

**Kaj označuje?**

- a) Pot kurirjev in vezistov.
- b) Planinsko pot vzdolž meje Evropske unije.
- c) Pot, ki je namenjena tudi turnim kolesarjem.
- d) Pot na meji med Avstrijo in Slovenijo.



TOČKE: -5 0 +5

2. Mladinska komisija je del planinske zveze, ki skrbi za mlade. Med drugim za srednješolce vsako leto organizira usposabljanje mladinskih voditeljev v svojem planinskem učnem središču.

**Kje se nahaja to središče (na sliki)?**

- a) V Ljubljani.
- b) V Mojstrani.
- c) V Bavšici pri Bovcu.
- d) V bližini Kredarice.



TOČKE: -5 0 +5

3. Malica je sestaven del planinske rekreacije, zato je pomembno, da jo znamo izbrati.

**Kakšna priporočila veljajo glede zauživanja energijskih pijač na planinskih pohodih?**

- a) Energijske pijače so dobrodošle, če jih uživamo tik pod vrhom, ko potrebujemo še zadnji sveženj energije. Razumemo jih kot neke vrste prehransko dopolnilo.
- b) Pločevinka energijske pijače naj bo vedno prisotna v nahrbtniku, saj gre za sodoben nadomestek tega, čemur smo včasih rekli "železna rezerva".
- c) Energijske pijače ne sodijo v gore! Njihov učinek je kratkotrajen, po njem pa je oseba, ki jo je zaužila, še bolj izčrpana kot je bila pred izpitjem.
- d) Energijske pijače ne sodijo v gore, saj praviloma vsebujejo alkohol, ki zmanjša prištevnost.

TOČKE: -5 0 +5

4. Na planinski poti ste srečali starejšega planinca, ki je obsedel na skali. Govoril je zelo nerazločno in zmedeno, pri tem pa je imel eno stran obraza vseskozi povešeno. Tožil je, da ga močno boli glava!

**Na katero bolezensko stanje kažejo simptomi?**

- a) Epileptični napad
- b) Šok
- c) Možgansko kap
- d) Astma

TOČKE: -5 0 +5

5. Mobilni telofoni so tudi v gorah postali nepogrešljivi. Z njim lahko fotografiramo in slike delimo s prijatelji na družabnih omrežjih, še pomembnejši pa so pri zagotavljanju naše varnosti.

**Katera trditev opisuje pravilno rabo telefona na planinskem izletu?**

- a) Vseskozi imamo vključen prenos podatkov, da smo obveščeni o stanju poti.
- b) Izklopimo vse nepotrebne funkcije ali mobilni telefon celo ugasnemo, da varčujemo z baterijo.
- c) Snemamo videoposnetek celotne ture, saj nam to lahko reši življenje.
- d) Pred turo namestimo kakšno zabavno aplikacijo, da nam med hojo ni dolgčas.

TOČKE: -5 0 +5

**KATEGORIJA B in G**

**IME EKIPE:** \_\_\_\_\_

6. V slovenskih gorah lahko najdemo več vrst gorskih koz.

**Katera žival je na sliki?**

- a) Gams
- b) Kozorog
- c) Zlatorog
- d) Muflon



**TOČKE: -5 0 +5**

7. Velenje z okolico ponuja zelo zanimive planinske izlete in sprehode. Njegova najvišja točka se nahaja na 1108 metri nad morjem.

**Kako se imenuje najvišji vrh velenjske občine (na sliki)?**

- a) Smrekovec
- b) Uršlja gora
- c) Ramšakov vrh
- d) Špik



**TOČKE: -5 0 +5**

8. Pravilno branje planinske karte je pomembno tako pri načrtovanju kot pri izvedbi planinskega izleta. Odpravljate se od Staničevega doma po Kozji dolini, kjer je pot označena z rdečimi pikicami.

**Kakšno težavnost poti lahko pričakujete tam?**

- a) Lahko planinsko pot.
- b) Zahtevno planinsko pot.
- c) Zelo zahtevno planinsko pot.
- d) Prekinjena črta pomeni, da pot ni povsod označena (brezpotje).

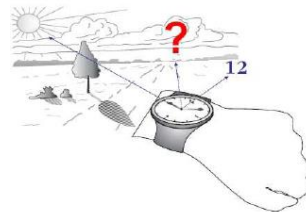


**TOČKE: -5 0 +5**

9. Luka in Miha sta na zimskem izletu zašla s poti. Ker pri sebi nista imela kompasa, sta se orientacije lotila s pomočjo Mihove ročne ure. Mali kazalec sta usmerila proti soncu ter poiskala simetralo kota med njim in številko 12 na uri.

**Katero smer neba sta s tem določila?**


- a) Sever.
- b) Jug.
- c) Vzhod.
- d) Zahod.



**TOČKE: -5 0 +5**

10. Na sliki je najuspešnejša športnica Mestne občine Velenje.

**Na črto zapišite njeno ime in priimek.**



**TOČKE: -5 0 +5**

**KATEGORIJE C, D in E**

**IME EKIPE:** \_\_\_\_\_

Vsak pravilen odgovor je vreden 5 točk. Če o odgovoru niste prepričani, premislite, ali želite odgovoriti, saj nepravilen odgovor prinaša -5 točk, neodgovorjeno vprašanje pa 0 točk. Izjema je naloga iz vrisovanja kontrolne točke na karto, ki je vredna 20 točk (nepravilna rešitev pa -5 točk).

1. Na planinskih poteh vse pogosteje srečujemo markacijo na sliki.

**Kaj označuje?**

- a) Pot kurirjev in vezistov.
- b) Planinsko pot vzdolž meje Evropske unije.
- c) Pot, ki je namenjena tudi turnim kolesarjem.
- d) Pot na meji med Avstrijo in Slovenijo.



**TOČKE: -5 0 +5**

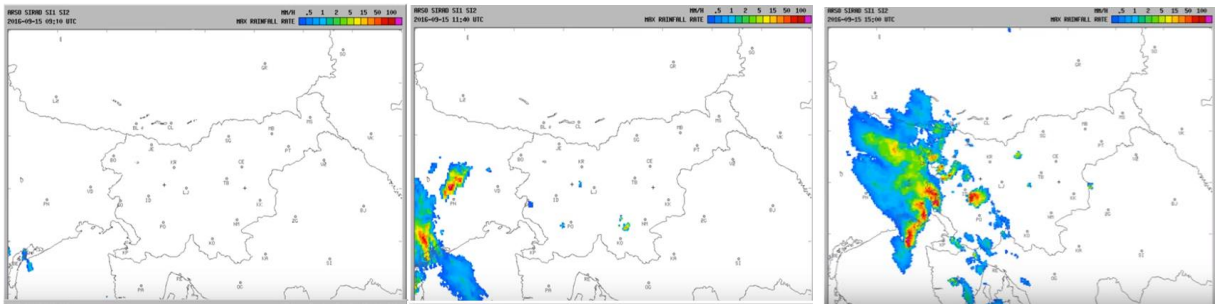
2. Planinski muzej v Mojstrani je bil odprt 7. avgusta 2010, natanko 115 let po dogodku, ki je bil prav tako zelo pomemben za slovensko gornišтво.

**Obletnica katerega dogodka je bila to?**

- a) Ustanovitev Slovenskega planinskega društva.
- b) Postavitev Aljaževega stolpa na vrhu Triglava.
- c) Prvi dokumentiran vzpon na Triglav.
- d) Odprtje prve planinske kočice na Črni prsti.

**TOČKE: -5 0 +5**

Pri načrtovanju ture in med njenim potekom moramo spremljati razvoj vremena. Na sliki je radarska slika padavin, ki je bila posneta na isti dan ob 9.10, ob 11.40 in ob 15.00.



3. Kakšno vreme je bilo v Sloveniji zjutraj na dan, ki ga prikazujejo radarske slike padavin?

- a) Delno oblačno.
- b) Ni bilo oblačno.
- c) Pretežno oblačno.
- d) Ni razvidno iz slike.

**TOČKE: -5 0 +5**

4. V času zadnje slike se nahajate v Karavankah, na vrhu Stola. Kako boste odreagirali?

- a) Vreme je stabilno, turo podaljšate še do sosednjega Vajneža in potem sestopite v dolino.
- b) Vreme ni idealno, a še nekaj ur ne gre pričakovati poslabšanja v okolici Stola, zato v miru uživate.
- c) Bliža se poslabšanje vremena, zato morate čim hitreje sestopiti v dolino.
- d) Ker že začne deževati, se zaščitite pred dežjem in na pomoč pokličete reševalce.

**TOČKE: -5 0 +5**

5. Na planinski poti ste srečali starejšega planinca, ki je obsedel na skali. Govoril je zelo nerazločno in zmedeno, pri tem pa je imel eno stran obraza veseskozi povešeno. Tožil je, da ga močno boli glava!

**Na katero bolezensko stanje kažejo simptomi?**

- a) Epileptični napad
- b) Šok
- c) Možgansko kap
- d) Astma

**TOČKE: -5 0 +5**

**KATEGORIJE C, D in E**

**IME EKIBE:**

6. S prijatelji ste obiskali smučišče na Golteh. V hotelu je vašo pozornost pritegnil propekt z naslovom »Naravovarstvena zveza Smrekovec«. Domačini so vam pojasnili, da se nahajate na pogorju Smrekovca, ki je polno botaničnih posebnost in redkih živalskih vrst.

**Katera ogrožena žival je v logotipu te zveze?**

- a) Planinska kavka
- b) Divji petelin
- c) Snežni jereb (belka)
- d) Fazan




**TOČKE: -5 0 +5**

Velenje z okolico ponuja zelo zanimive planinske izlete in sprehode.

**7. Kako se imenuje najvišji vrh velenjske občine (na sliki)?**

- a) Radojč
- b) Uršlja gora
- c) Ramšakov vrh
- d) Špik

**TOČKE: -5 0 +5**



**8. Kakšna je njegova nadmorska višina?**

- a) 879 m
- b) 1108 m
- c) 1452 m
- d) 1712 m.

**TOČKE: -5 0 +5**

9. Slovenski gorski svet je sestavljen le iz Alp in visokogorskih ciljev. Nekoliko krajše, a kljub temu zelo lepe izlete lahko opravimo tudi v katerem izmed naštetih hribov.

**Povežite hribovja z najvišjimi vrhovi, tako da na črto vpišete ustrezno kombinacijo števil in črk.**

- |                         |                |
|-------------------------|----------------|
| 1) Cerkljansko hribovje | a) Trdinov vrh |
| 2) Škofjeloško hribovje | b) Kum         |
| 3) Posavsko hribovje    | c) Porezen     |
| 4) Gorjanci             | d) Ratitovec   |


Odgovor: \_\_\_\_\_ (Primer: 1a,2b,3c, 4d)

**TOČKE: -5 0 +5**

10. Leto 2021 bo z zlatimi črkami vpisano v zgodovino slovenskega športa, saj je Janja Garnbret postala sploh prva olimpijska prvakinja v športnem plezanju.

**Kako se imenuje disciplina, ki je del olimpijske kombinacije in je prikazana na sliki?**

- a) Težavnostno plezanje
- b) Balvansko plezanje
- c) Hitrostno plezanje
- d) Paralelna preizkušnja



**TOČKE: -5 0 +5**

**Na priloženo karto vrišite KT, ki je podan z opisom:**

Točka je od Petelinjeka (86,25) oddaljena 900 m. Iz nje vidimo vrh Vivodnika (86,23) pod azimutom 230°. Leži na jasi!

**TOČKE: -5 0 +20**

## Kontrolna točka na VAGI (vse kategorije)

Ko ekipa prispe na točko, se ji podpišete v ustrezen kvadrater. Za Kategorijo AFH je to KT3, za kategorijo BG je to KT5, za kategorije CDE pa KT8. Poveste jim, da lahko rešujejo **nalogo iz vozlov**. Če ne želijo reševati, jim v okvirček zapišete **0 točk** in lahko nadaljujejo. Sicer so naloge opisane spodaj.

**Pripomočki: vodniška vrv, ki jo napnete od drevesa do drevesa; več pomožnih vrvic.**

Kategorija AFH: 1 član ekipe mora narediti osmico, 1 član pa bičev voz. To morata biti nujno različni osebi.

Kategorija BG: 1 član ekipe mora narediti polbičev voz, 1 član ekipe pa podaljševalni voz. To morata biti različni osebi.

Kategorije CDE: Iz pomožne vrvic naredite neskončno zanko s podaljševalnim vozom. Na eni strani zanke vplete vponko z bičevim vozom, na drugi strani pa zanko vplete na vodniško vrv s prusikovim vozom. Vsak voz mora narediti drug član ekipe. Če gre za dvočlansko ekipo, lahko ena oseba naredi dva voza.
---------------------------------------------------------------------------------------------------------------------------------------------------------------------------------------------------------------------------------------------------------------------------------------------------------------

Če naredijo **vse prav** vpiši na kontrolni list **20 točk**.

Če se odločijo odgovarjati in imajo **karkoli narobe** oz. ne znajo izdelati zahtevanih vozlov, jim vpiši **-5 točk** (in se podpiši).

Če kakšna ekipa čaka na odgovorjanje, si zabeleži mrtvi čas v minutah (MČ) in ji ga vpiši na kontrolni kvadrater.

## Kontrolna točka na SOTOČJE (vse kategorije)

Ko ekipa prispe na točko, se ji podpišete v ustrezen kvadrateg. Za Kategorijo AFH je to KT5, za kategorijo BG je to KT2, za kategorije CDE pa KT5. Poveste jim, da lahko rešujejo **nalogo iz prve pomoči**. Če ne želijo reševati, jim v okvirček zapišete **0 točk** in lahko gredo naprej. Sicer so naloge opisane spodaj.

### ABFG: Prva pomoč (preberi jim scenarij)

Med tekmovanjem ste malo postali in se posladkali z bonboni, ki ste jih imeli s seboj. Ker se vam je mudilo naprej, ste z njimi v ustih pričeli teči. Enemu od vas se je bombon zataknil v sapniku. Začel se je dušiti in postal zaripel v obraz. Kako mu boste pomagali?

**PRAVILNO:** Udarimo ga med lopatici. Če to ni dovolj, izvedemo Heimlichov prijem (slika)

**NEPRAVILNO:** Damo mu za piti ali jesti, rečemo naj zadrži sapo, damo ga v položaje.



### CDE: Prva pomoč (preberi jim scenarij)

Na brezpotju sta Jan in Maj naletela na okrvavljenega ponesrečenega planinca. Pri pogovoru z njim sta zaznala otopelost in apatijo – kazal ni nobenega zanimanja za dogajanje okoli sebe. Ponesrečenec je tožil zaradi bolečin v prsih in težkega dihanja. Njegov pulz je bil hiter in šibak, dihal je pospešeno in plitvo ter imel blede, modrikasto kožo. Oblival ga je tudi hladen znoj.

**Za katero bolezensko stanje gre? Demonstrirajte položaj, v katerega ga moramo posaditi do prihoda reševalcev.**

Odgovor: Šok, ležeč položaj z dvignjenimi nogami.



Če odgovorijo **vse prav** vpiši na kontrolni list **20 točk**.

Če se odločijo odgovarjati in imajo **ni prav** oz. ne vedo, vpiši **-5 točk**.

Če kakšna ekipa čaka na odgovarjanje, si zabeleži mrtvi čas v minutah (MČ) in ji ga vpiši na kontrolni kvadrateg.








## Kontrolna točka GORA (kategorije CDE)

Ko ekipa prispe na točko, se ji podpišete v ustrezen kvadratek. Za vse kategorije je to KT3. Poveste jim, da lahko rešujejo **nalogo iz poznavanja planinskih koč**. Če ne želijo reševati, jim v okvirček zapišete **0 točk** in lahko gredo naprej. Sicer je naloga opisana spodaj.

### PREBERI NAVODILO:

Prejeli boste fotografije petih domov. Trije so iz bližnje okolice. Ugotoviti morate ime ali lokacijo vsaj štirih. Vsaj 2 morate ugotoviti v prvem poskusu, 2 pa lahko v drugem.

		
		Rešitve: Dom na Uršlji gori Dom na Paškem Kozjaku Vodnikov dom na Velem polju Kamniška koča na Kamniškem sedlu Andrejev dom na Slemenu

### TOČKOVANJE

- Za pravilen odgovor se šteje, če prepoznajo vsaj 4 domove od 5. Vsaj 2 morajo prepoznati v prvem poskusu, pri 2 pa se lahko 1x zmotijo.
- Za pravilen poskus se šteje tudi, če ugamejo samo lokacijo ali samo ime doma.

Če naredijo **prav** vpiši na kontrolni list **20 točk**.

Če se odločijo odgovarjati in **jim ne uspe** jim vpiši **-5 točk**.

Če kakšna ekipa čaka na odgovarjanje, si zabeleži mrtvi čas v minutah (MČ) in ji ga vpiši na kontrolni kvadratek.

## Kontrolna točka pri VRANJI PEČI (kategorije ABFGH)

Ko ekipa prispe na točko, se ji podpišete v ustrezen kvadrater. Za Kategorijo AFH je to KT2, za kategorijo BG pa KT6. Poveste jim, da lahko rešujejo **planinske uganke**. Če ne želijo reševati, jim v okvirček zapišite **0 točk** in jih **NAPOTITE V JAMO POŠTEMLJAT KVADRATEK 2 OZIROMA 6**, nato lahko gredo naprej. Sicer so uganke zapisane spodaj.

### OPOMBA:

- AFH ekipe bodo prišle med 9h in 10h, BG ekipe pa bolj okoli 11h-12h (morda ne vse, če se bo kaka izgubila).
- Zna se zgoditi, da bo prišla do vas tudi kaka od dveh CDE ekip. Njim samo povejte, da nimajo naloge in naj sami poiščejo zastavico.

### Poveste jim tri uganke, za vse točke morajo uganiti vsaj 2 od 3.

Tri glave ponosno dviguje v višave  
in vabi v stene planince ta prave.  
Najvišji pri nas to gora je očak,  
nanj mora povzpeti Slovenec se vsak.  
(ODG: Triglav)

Bela je zvezda, rumeno oko,  
Najdeš jo le, če splezaš v goro.  
Lahko jo poduhaš, jo slikaš, a veš,  
utrnat te rože nikoli ne smeš.  
(Odg: Planika)

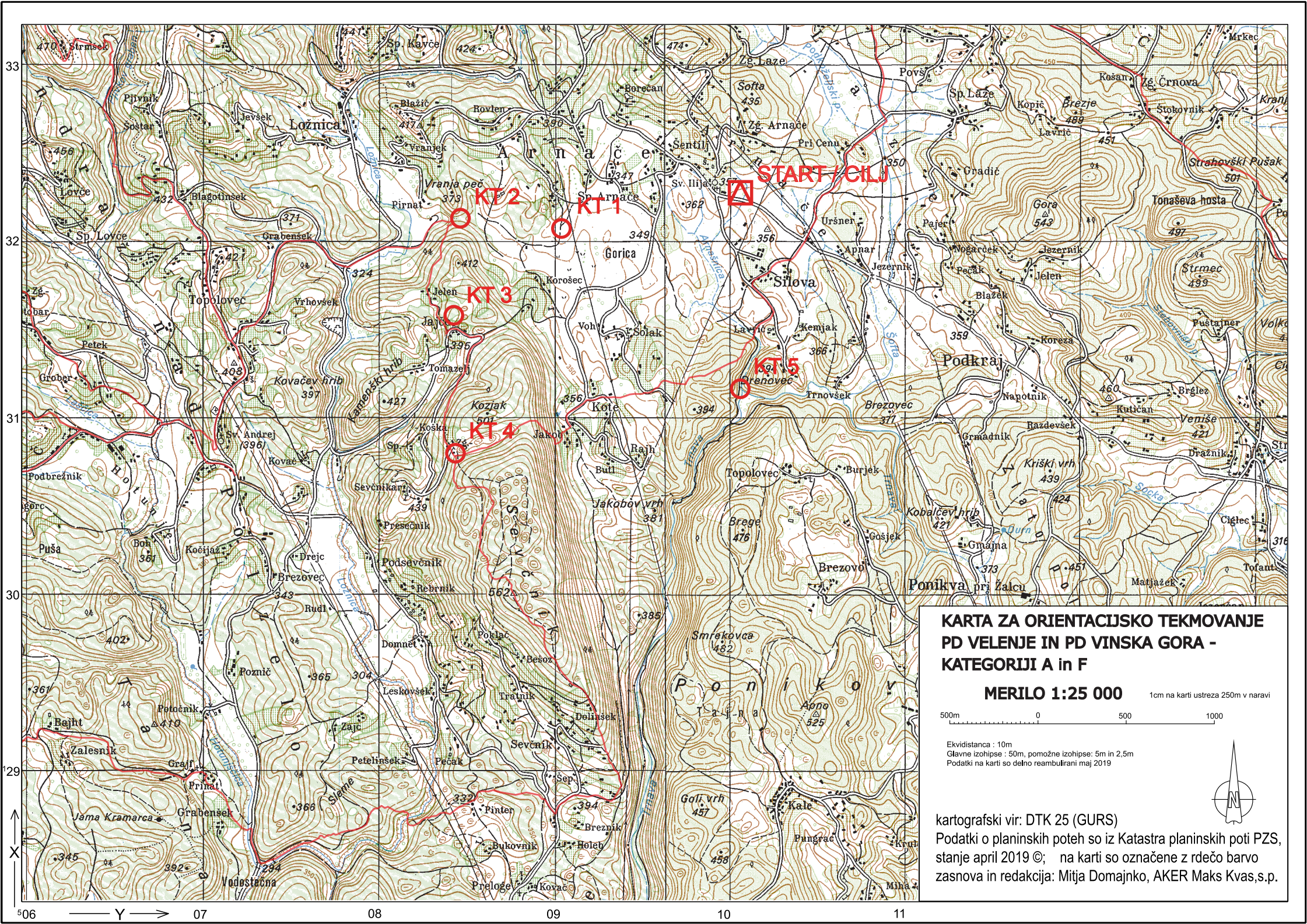
Zaplešeta v vetru mu krilci zaviti,  
na njih pa markaciji majhni sta skriti.  
Cvetlica mu vsaka gre rada v priklon,  
Ne, grški to bog ni, čeprav mu ime je a..?  
(Odg: Gorski apolon)

Če jim uspe vsaj 2x, vpiši na kontrolni list **20 točk**.

Če odgovarjajo in jim ne uspe, vpiši **-5 točk**.

Če kakšna ekipa čaka na odgovarjanje, si zabeleži mrtvi čas v minutah (MČ) in ji ga vpiši na kontrolni kvadrater.

**KO KONČAJO, JIH NAPOTIŠ V JAMO IN JIM POVEŠ, DA MORAJO TAM PRELUKNJATI POLJE ZA KT2 oz. KT6. LAHKO GRE TUDI EN SAM ČLAN EKIPE. ČE RABIJO, JIM POSODIŠ ČELKO.**



**START/CILJ**

**KT2**

**KT1**

**KT3**

**KT4**

**KT5**

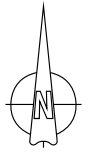
**KARTA ZA ORIENTACIJSKO TEKMOVANJE  
PD VELENJE IN PD VINSKA GORA -  
KATEGORIJI A in F**

**MERILO 1:25 000**

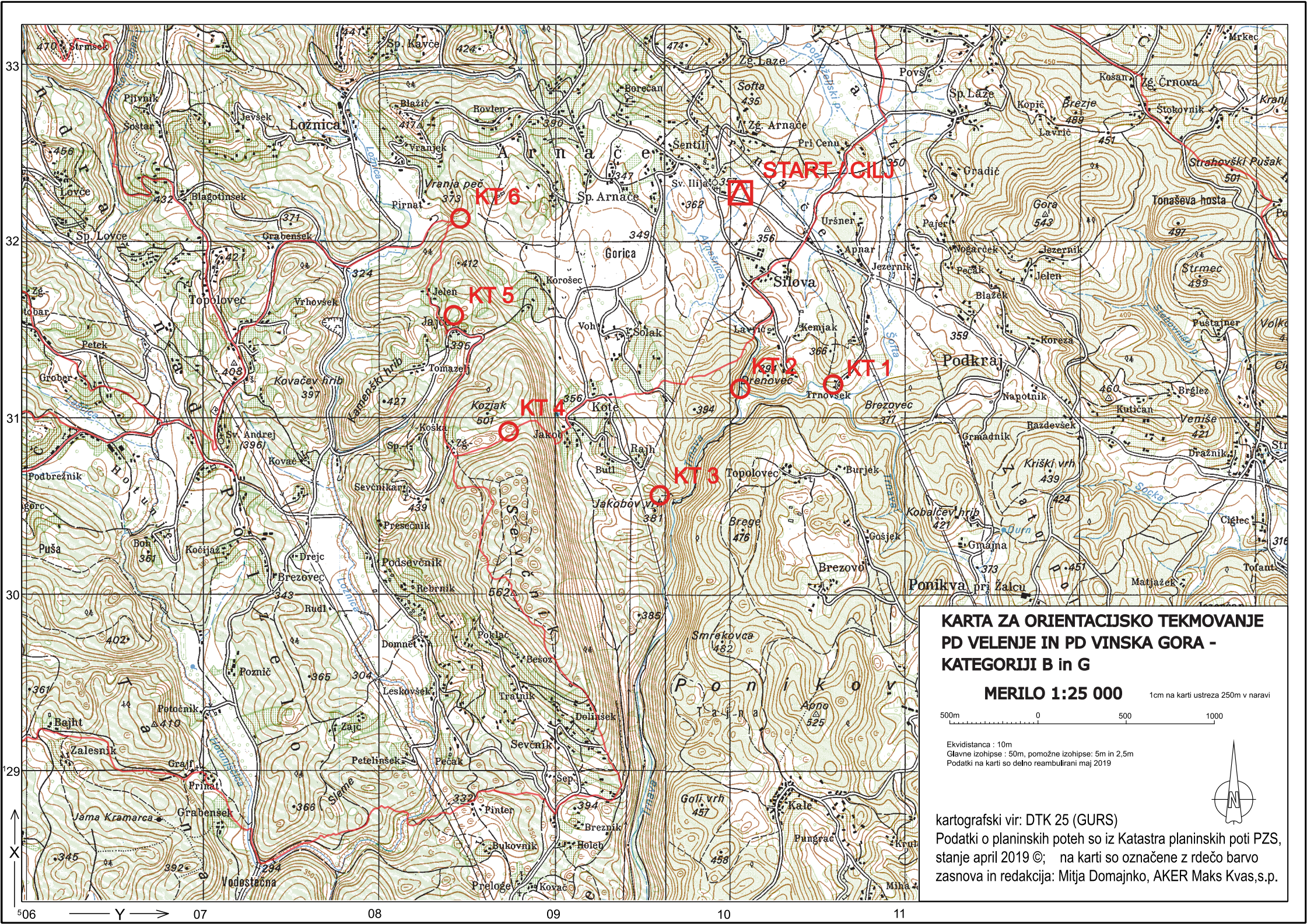
1cm na karti ustreza 250m v naravi



Ekvidistanca : 10m  
Glavne izohipse : 50m, pomožne izohipse: 5m in 2,5m  
Podatki na karti so delno reambulirani maj 2019



kartografski vir: DTK 25 (GURS)  
Podatki o planinskih poteh so iz Katastra planinskih poti PZS,  
stanje april 2019 ©; na karti so označene z rdečo barvo  
zasnova in redakcija: Mitja Domajnko, AKER Maks Kvas,s.p.



**START / CILJ**

**KT 6**

**KT 5**

**KT 4**

**KT 3**

**KT 2**

**KT 1**

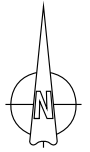
**KARTA ZA ORIENTACIJSKO TEKMOVANJE  
PD VELENJE IN PD VINSKA GORA -  
KATEGORIJI B in G**

**MERILO 1:25 000**

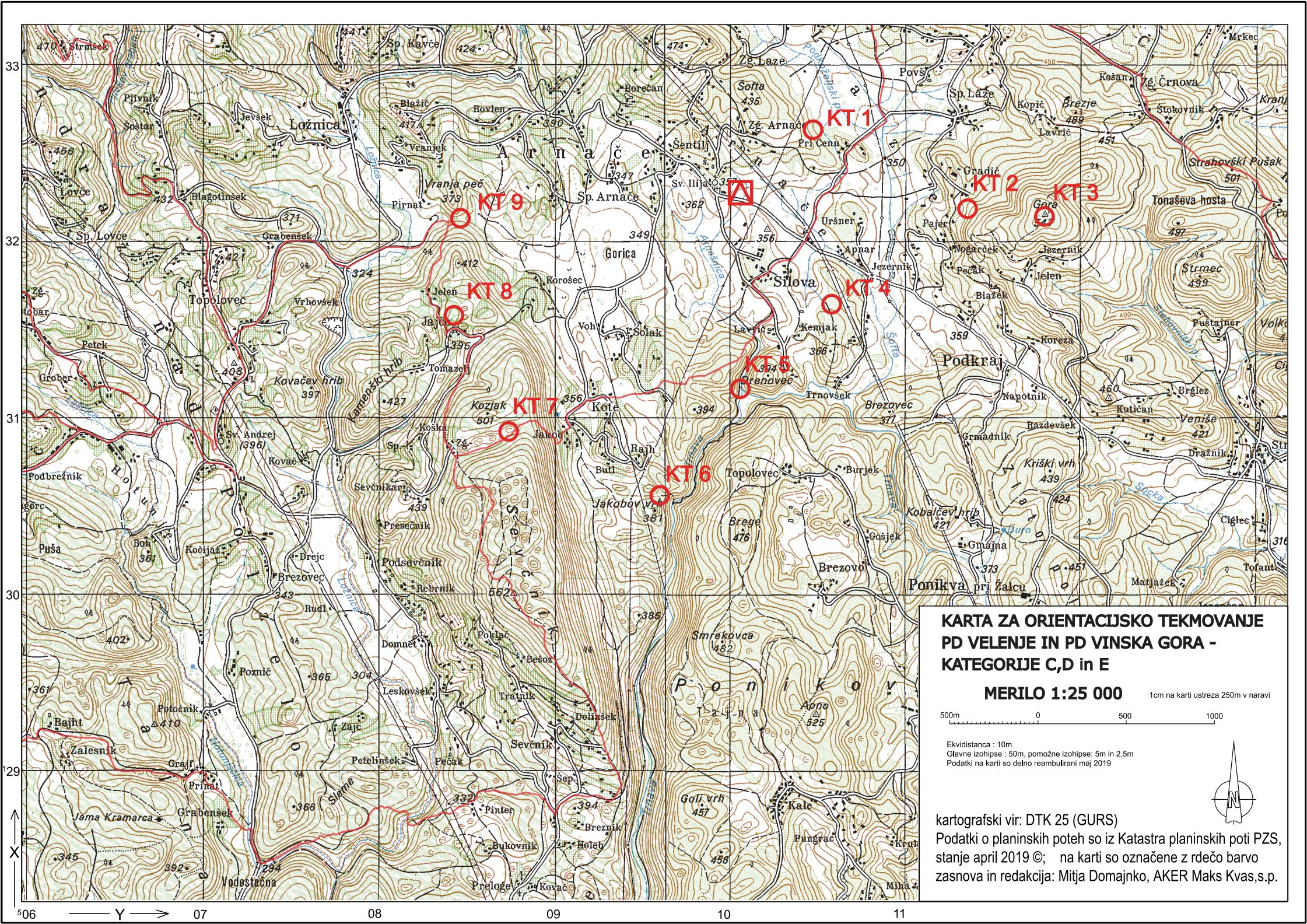
1cm na karti ustreza 250m v naravi



Ekvidistanca : 10m  
Glavne izohipse : 50m, pomožne izohipse: 5m in 2,5m  
Podatki na karti so delno reambulirani maj 2019




kartografski vir: DTK 25 (GURS)  
Podatki o planinskih poteh so iz Katastra planinskih poti PZS,  
stanje april 2019 ©; na karti so označene z rdečo barvo  
zasnova in redakcija: Mitja Domajnko, AKER Maks Kvas,s.p.



**KARTA ZA ORIENTACIJSKO TEKMOVANJE  
PD VELENJE IN PD VINSKA GORA -  
KATEGORIJE C,D in E**

**MERILO 1:25 000**

1cm na karti ustreza 250m v naravi



Ekvidistanca : 10m  
Glavne izohipse : 50m, pomožne izohipse: 5m in 2,5m  
Podatki na karti so delno reambulirani maj 2019



kartografski vir: DTK 25 (GURS)  
Podatki o planinskih poteh so iz Katastra planinskih poti PZS,  
stanje april 2019 ©; na karti so označene z rdečo barvo  
zasnova in redakcija: Mitja Domajnko, AKER Maks Kvas,s.p.

**REŠITVE – KATEGORIJA A**

1c, 2b, 3c, 4 112, 5b, 6a, 7d, 8b, 9c, 10c

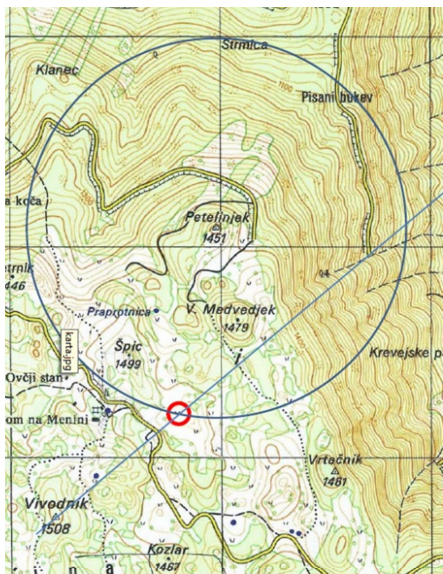
**REŠITVE – KATEGORIJA B**

1c, 2c, 3c, 4c, 5b, 6a, 7d, 8c, 9b, 10 Janja Garnbret

**REŠITVE – KATEGORIJE C,D,E**

1c, 2b, 3d, 4c, 5c, 6b, 7d, 8b, 9 1c2d3b4a, 10c

**VODILO PRI ZAPISANIH ODGOVORIH:** Odgovor se prizna, če nedvoumno izkazuje znanje. To pomeni, da se tudi pri kaki slovnični napaki pogleda skozi prste.



Opomba: Polmer kroga ob originalni velikosti karte znaša 3,6 cm.